


問題 (小学校高学年 程度)

次の計算をしなさい。

$$\frac{17}{20} - \left(0.25 - \frac{1}{8}\right)$$

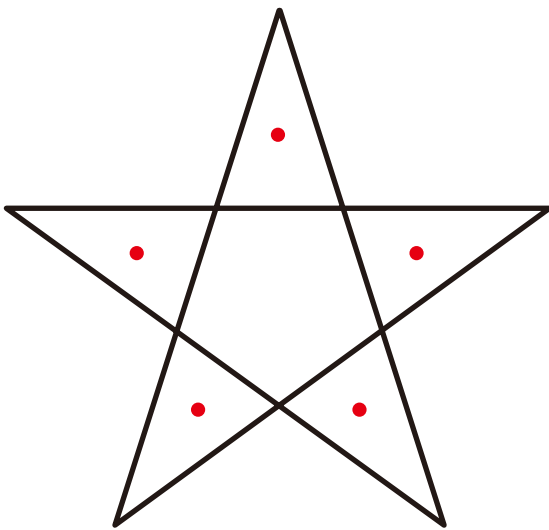
正答率 **58.1%**

問題 下の図に直線を2本引いて、三角形を10個つくりなさい。

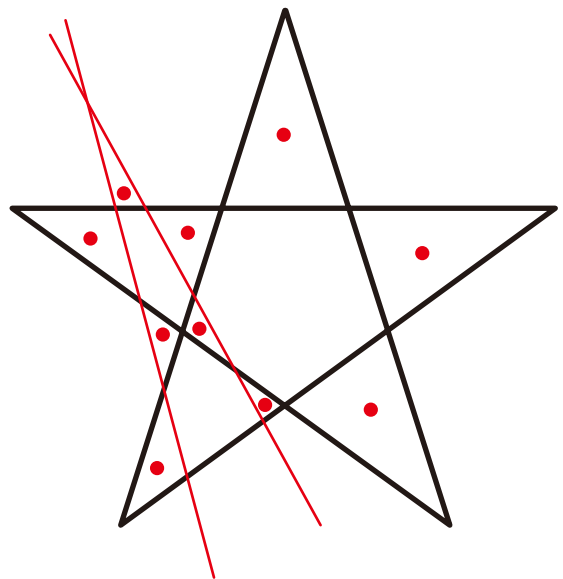


解答

$$\frac{17}{20} - \left(0.25 - \frac{1}{8}\right) = \frac{29}{40}$$



最初の状態では三角形は5こ



外側で交わるように直線をひくと
三角形は10こになる