

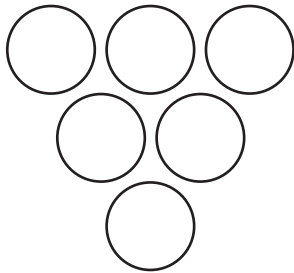
ちょこっと数学

# PUZZLE 数活 頭をきたえる数学

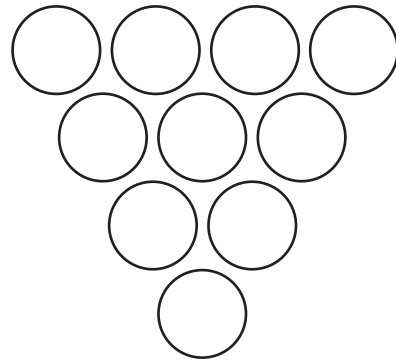
望星 4 月号に掲載された問題です。

指示された数字をそれぞれ 1 回ずつ使い、下の段にある○に、すぐ上にある 2 つの○の中にある数字の差（大きい数字－小さな数字）の答えが入るような数字の逆ピラミッドを完成させてください。

① 1～6 までの数字




② 1～10 までの数字



解答

① 1～6 までの数字



② 1～10 までの数字

